

班 级

学 号

姓 名

# B 卷

## 第五单元 综合测试



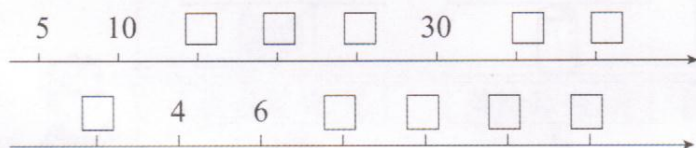
时间:45 分钟

总分:100 分

得分:

### 一、 填空。(26 分)

1. 在方框里填上合适的数。



2.  里最大能填几?

$$\square \times 3 < 25$$

$$5 \times \square < 21$$

$$\square \times 2 < 15$$

$$4 \times \square < 18$$

3. 在  $\bigcirc$  填上“ $>$ ”“ $<$ ”或“ $=$ ”。

$$4 \times 6 \bigcirc 10$$

$$20 \bigcirc 4 \times 5$$

$$9 \times 2 \bigcirc 2 \times 9$$

$$18 \bigcirc 6 + 6 + 6$$

$$8 \times 4 \bigcirc 3 \times 6$$

$$4 \times 4 \bigcirc 4 + 4$$

4. 在括号里填上适当的数。

$$4 \times (\quad) = 24$$

$$(\quad) \times 3 = 18$$

$$(\quad) \times 5 = 15$$

$$5 \times (\quad) = 30$$

$$4 \times (\quad) = 36$$

$$(\quad) \times 2 = 8$$

### 二、 看图列算式。(12 分)

1.



加法算式: \_\_\_\_\_


乘法算式: \_\_\_\_\_

AB

卷

数学

二年级上册(配北师大版)



加法算式: \_\_\_\_\_

乘法算式: \_\_\_\_\_

三、 判断。(对的画“√”,错的画“×”)(5分)

1. 2个6的积与6个2的和相同,意义也相同。 ( )

2.  $5 \times 6 - 3 = 5 \times 3 = 15$ 。 ( )

3. 把  $5 + 5 + 5$  转化成乘法算式是  $5 \times 3$  或  $3 \times 5$ 。 ( )

4.  $4 \times 6$  可以表示为6个4相加。 ( )

5.  $2 \times 3 = 6 \times 1$ 。 ( )

四、 想一想,做一做。(12分)

$\times$   = 12

$\times$   = 12

$\times$   = 12

$\times$   = 12

五、 猜一猜,同一种图形代表同一个数。(9分)


$\bigcirc + \bigcirc + \bigcirc = 6$

$\triangle + \triangle + \triangle = 9$

猜:  $\bigcirc \times \triangle = ( \quad )$

六、 解决问题。(24分)

1.



我们都有8只脚,  
一共有多少只脚?



班 级

学 号

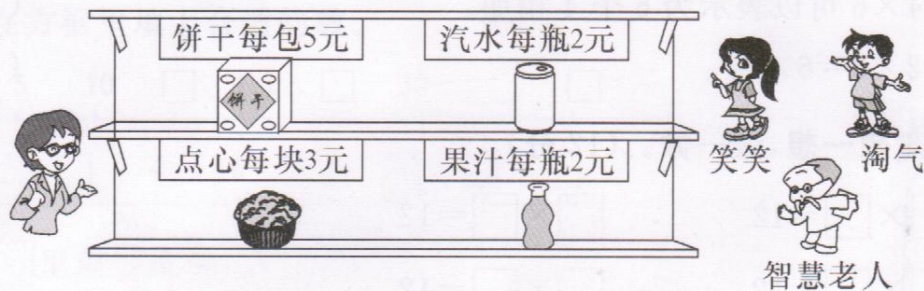
姓 名

2.



爸爸每个星期工作5天，每天工作8个小时。一个星期要工作多少个小时？

3.



(1) 笑笑买 2 包饼干，需要多少钱？

(2) 淘气买 5 块点心，需要多少钱？

AB


卷

数学

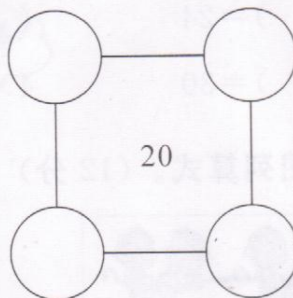
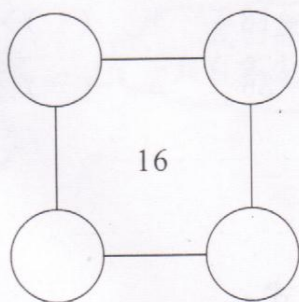
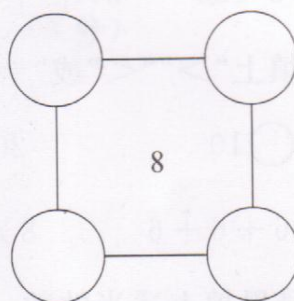
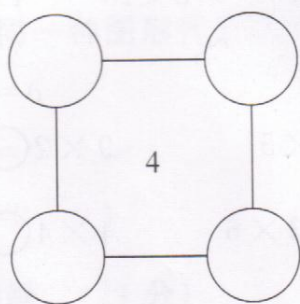
二年级上册(配北师大版)

(3) 智慧老人买 3 瓶汽水和 1 瓶果汁一共要付多少钱?

(4) 你还能提出哪些问题? 并请列式解答。

七、 在每个组的○里填上相同的数,使它们的和分别是 4、8、16、20。

(12 分)



装

订

线